

Тридцатая неделя марафона «ЗНАЙКА» завершена.

ОТВЕТЫ



1. Анаграмма. **СТАРИК**

Ответ: СТИРКА.

2. **ШАРАДА.**

**Нота - мой первый слог,
Поставь с ней рядом предлог
И, разгадав загадку до конца,
Получишь выражение лица.**

Ответ: МИНА.

3. Как выглядит эта фигура сверху?



1




2



3


Ответ: Вариант 1.

4. По дороге с каким номером можно добраться до двери дома?




Ответ: 3.

5. Какая картинка отличается от остальных?




Ответ: 5.

6. Сколько всего треугольных граней на объемных фигурах? (грань - это сторона геометрической фигуры).



Ответ: 16.

7. Какое домино будет следующим в ряду?



1 2 3 4

Ответ: Вариант 1.

8. Реши sudoku. Какое число должно стоять на месте знака вопроса?

?	5	1		4	6			2
	9				8			
	8		5					
			2					
		8						5
2	6	3						
				9				8
3					5	4	2	
							6	1

Ответ: 7.