

Девятнадцатая неделя марафона «ЗНАЙКА» завершена.

ОТВЕТЫ



1. Реши задачу.


Прилетели галки,
Сели на палки,
Если на каждой палке
Сядет по одной галке
Не хватит палки.
Если же на каждой палке
Сядет по две галки
То одна из палок
Будет без галок.
Сколько было палок?
Сколько было галок?

Ответ: 4 3.

2. Четыре кошки и три котенка весят 15 кг, а три кошки и четыре котенка весят 13 кг. Сколько весит каждая кошка и каждый котенок в отдельности?
Предполагается что все кошки весят одинаково, и все котят имеют одинаковый вес.

Ответ: 1 3.

3. В соревнованиях принимают участие 8 бегунов. Но только 6 из них придут к финишу. Номера на их спинах в сумме составляют 32. Какие черепашки снимутся с дистанции? В ответ запиши их номера через пробел.



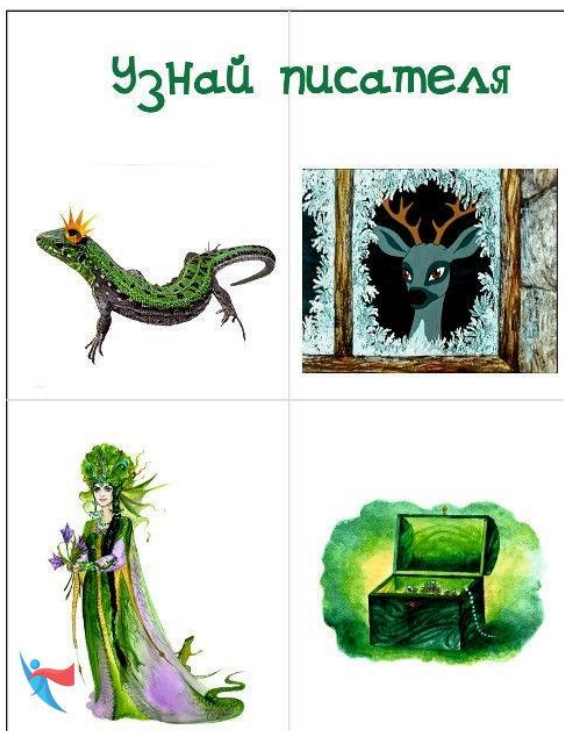
Ответ: 1 3.

4. Разгадай ребус



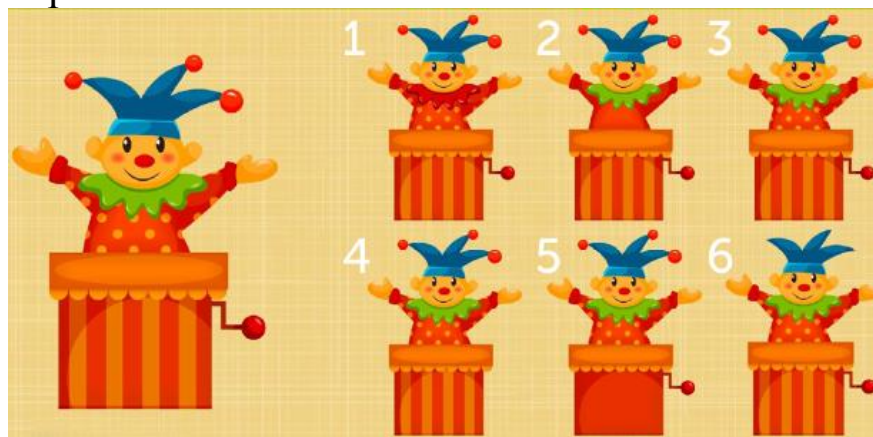
Ответ: Поднос.

5.



Ответ: Бажов.

6. Какая картинка копия большой? В ответ напиши номер картинки.



Ответ: 3.

7. Шарада

**Начало - деревом зовется,
Конец - читатели мои.
А в книге целое найдется
И в каждом слове есть они.**

Ответ: Буквы.